



PREFEITURA DO MUNICÍPIO DE LONDRINA

CONCURSO PÚBLICO 18/05/2008

INSTRUÇÕES

- Confira, abaixo, seu nome, número de inscrição e o cargo correspondente à sua inscrição. Assine no local indicado.
- Verifique se os dados impressos no Cartão-Resposta correspondem aos seus. Caso haja alguma irregularidade, comunique-a imediatamente ao Fiscal.
- Não serão permitidos empréstimos de materiais, consultas e comunicação entre candidatos, tampouco o uso de livros e apontamentos. Relógios, aparelhos eletrônicos e aparelhos celulares deverão ser desligados e colocados no saco plástico fornecido pelo Fiscal. O não-cumprimento destas exigências ocasionará a exclusão do candidato deste Concurso Público.
- Aguarde autorização para abrir o Caderno de Prova. A seguir, antes de iniciar, confira a paginação.
- Este Caderno de Prova contém **40 questões objetivas**, em que há somente uma alternativa correta. Transcreva para o Cartão-Resposta o resultado que julgar correto em cada questão, preenchendo o retângulo correspondente com caneta de tinta preta.
- No Cartão-Resposta, anulam a questão: a marcação de mais de uma alternativa em uma mesma questão, as rasuras e o preenchimento além dos limites do retângulo destinado para cada marcação. Não haverá substituição do Cartão-Resposta por erro de preenchimento.
- A interpretação das questões é parte do processo de avaliação, não sendo permitidas perguntas aos Fiscais.
- A duração desta prova será de **5 (cinco) horas**, incluindo o tempo para preenchimento do Cartão-Resposta.
- Ao concluir a prova, permaneça em seu lugar e comunique ao Fiscal.
- Aguarde autorização para devolver, em separado, o Caderno de Prova e o Cartão-Resposta, devidamente assinados.

5407

TÉCNICO DE GESTÃO PÚBLICA NA FUNÇÃO DE ASSISTÊNCIA DE GESTÃO

Prova C

LOCAL-SALA-CARTEIRA	NÚMERO DE INSCRIÇÃO	NOME DA CANDIDATA
ASSINATURA DA CANDIDATA		



Transcreva abaixo as suas respostas, dobre na linha pontilhada e destaque cuidadosamente esta parte.

RESPOSTAS																			
01	02	03	04	05	06	07	08	09	10	11	12	13	14	15	16	17	18	19	20
21	22	23	24	25	26	27	28	29	30	31	32	33	34	35	36	37	38	39	40

O gabarito oficial provisório estará disponível no endereço eletrônico
www.cops.uel.br a partir das 17 horas do dia 19 de maio de 2008.

LÍNGUA PORTUGUESA/INTERPRETAÇÃO DE TEXTO

Leia o texto a seguir e responda às questões de 1 a 4.

Texto 1

Apesar do ritmo lento registrado nos dois primeiros meses do ano, a administração municipal aposta que Londrina vai fechar 2008 com recorde na geração de novos empregos. Até fevereiro, foram criadas no Município 1967 vagas, valor 15,6% menor que o gerado no mesmo período do ano passado. Desse total, 72% são empregos no setor de serviços.

“Neste ano projetamos abrir 7,2 mil novos empregos”, estimou o presidente do Instituto de Desenvolvimento de Londrina (Idel), Mauro Viecili, repetindo a previsão para 2007, que acabou não se concretizando. “Mas acredito que a criação irá superar essa meta devido aos empreendimentos que temos confirmados para a cidade”, completou.

(MENEZES, S. Número de novos empregos cai em Londrina. *Jornal de Londrina*, 19 mar. 2008.)

1) Com base no texto, é correto afirmar:

- I. A projeção do número de novos empregos em 2007 não se confirmou.
- II. As expectativas de novas vagas em 2008 são otimistas.
- III. Em 2008, devem ser gerados 15,6% menos empregos em relação ao ano anterior.
- IV. Em Londrina, são gerados mais postos de trabalho no setor industrial.

Assinale a alternativa correta.

- a) Somente as afirmativas I e II são corretas.
- b) Somente as afirmativas II e IV são corretas.
- c) Somente as afirmativas III e IV são corretas.
- d) Somente as afirmativas I, II e III são corretas.
- e) Somente as afirmativas I, III e IV são corretas.

2) Considere a frase “Apesar do ritmo lento registrado nos dois primeiros meses do ano, a administração municipal aposta que Londrina vai fechar 2008 com recorde na geração de novos empregos”.

Qual das alternativas a seguir substitui os termos sublinhados, sem alterar o sentido do texto?

- a) “Por conta do”; “afirma”.
- b) “Embora o”, “sugere”.
- c) “Devido ao”; “propõe”.
- d) “Em que pese o”; “assevera”.
- e) “Para o”; “duvida”.

A frase seguinte refere-se às questões 3 e 4.

“Mas acredito que a criação irá superar essa meta devido aos empreendimentos que temos confirmados para a cidade”.

3) O termo “Mas” tem valor de:

- a) Conseqüência.
- b) Dúvida.
- c) Condição.
- d) Causa.
- e) Oposição.

4) Na frase, o termo sublinhado pode ser substituído, sem alterar o sentido do texto, por:

- I. em detrimento dos
- II. em oposição aos
- III. em virtude dos
- IV. graças aos

Assinale a alternativa correta.

- a) Somente as afirmativas I e II são corretas.
- b) Somente as afirmativas II e IV são corretas.
- c) Somente as afirmativas III e IV são corretas.
- d) Somente as afirmativas I, II e III são corretas.
- e) Somente as afirmativas I, III e IV são corretas.

Leia o texto a seguir e responda às questões de 5 a 8.

Texto 2

Revistas como a *Forbes* divulgam anualmente as listas das pessoas mais ricas do mundo. Há também o *ranking* da influência, da beleza, da popularidade. Nos tempos em que o individualismo é ventilado como sinônimo de sucesso, a competitividade atinge seu clímax e tudo pode ser embalado e vendido, soa o alerta: onde vamos parar? Por que consumimos tanto? Para o professor de filosofia João Vicente Hadich Ferreira, já passou a hora de puxar o freio: "Trata-se de um paradoxo. Queremos tanto ser os melhores, os primeiros e no fim não conseguimos ser nós mesmos. Resultado: há uma desumanização e, nessa relação, temos índices altíssimos de doenças da mente, como a depressão".

João Vicente ratifica um conceito que sempre passa aos seus alunos: o pensar filosófico. "Precisamos rever a realidade, ler as entrelinhas e ver o que está atrás da sociedade de consumo, com sua avalanche de comerciais e propagandas e não apenas recebê-los sem a mínima criticidade", sustenta.

(Adaptado de: NASSIF, T. Uma sociedade à beira do caos. *Folha de Londrina*, 23 mar. 2008.)

5) Com base no texto, é correto afirmar:

- a) A história da humanidade atingiu seu clímax.
- b) A frase "tudo pode ser embalado e vendido" sugere que, na nossa sociedade, as oportunidades são iguais para todos.
- c) A expressão "puxar o freio" explica como fazer para ser bem sucedido economicamente.
- d) O alerta a que o texto se refere corresponde a uma tomada de consciência em relação ao consumismo.
- e) A desumanização é fruto da crescente automatização em nossas vidas.

6) Com base no texto, é correto afirmar:

- a) A sociedade contemporânea é a melhor de todos os tempos.
- b) O capitalismo permite que todos consumam.
- c) A sociedade dos tempos atuais prefere a aparência à essência.
- d) As listas veiculadas pela mídia atenuam a competitividade.
- e) Ser competitivo é ser saudável.

7) Com base no texto, é correto afirmar:

- I. É preciso rever o passado para construir o futuro.
- II. O pensar filosófico supõe criticidade em relação às informações que recebemos.
- III. Reduzir o consumo é uma saída para o impasse da sociedade atual.
- IV. Ler as entrelinhas da realidade gera um paradoxo existencial.

Assinale a alternativa correta.

- a) Somente as afirmativas I e IV são corretas.
- b) Somente as afirmativas II e III são corretas.
- c) Somente as afirmativas III e IV são corretas.
- d) Somente as afirmativas I, II e III são corretas.
- e) Somente as afirmativas I, II e IV são corretas.

8) Considere a frase “João Vicente ratifica um conceito que sempre passa aos seus alunos: o pensar filosófico”. O termo sublinhado pode ser substituído, sem alterar o significado do texto, por:

- a) confirma.
- b) separa.
- c) racionaliza.
- d) utiliza.
- e) rastreia.

O texto seguinte refere-se às questões 9 e 10.

Texto 3

Os caminhos que levam ao Jalapão não são fáceis. É preciso uma boa dose de vontade e perseverança. As estradas são esburacadas e é comum o carro atolar. Existem pouquíssimos hotéis ou qualquer estrutura para o turista – bom para os que gostam de uma boa aventura. A natureza por lá é quase intocada. Ainda bem. Pelas estradas, dá para ver bandos de araras-azuis e vários outros pássaros e animais rasteiros. As veredas, onde estão o capim-dourado, surgem como oásis em meio ao deserto. E os rios têm águas calmas, intercaladas por quedas de fazer perder o fôlego, que formam belas cachoeiras. No fim da tarde, o céu costuma se pintar de vermelho e os buritis – palmeiras longilíneas – projetam sombras lindas. Diante de tanta beleza, ninguém estranha quando alguém senta e chora. O Jalapão provoca isto nas pessoas: rega a alma e renova as forças.

(HOLANDA, A. Jalapão é um lugar para aguçar os sentidos. *Revista Bons Fluidos*, setembro de 2006, p.100.)

9) O texto caracteriza-se como:

- a) Um protesto.
- b) Um manifesto.
- c) Uma resenha.
- d) Uma narrativa.
- e) Uma descrição.

10) Com base no texto, é possível afirmar:

I. A falta de estrutura para o turismo deve desanimar os mais aventureiros.

II. O termo “quase intocada” refere-se à agressão do homem à natureza.

III. A expressão “Ainda bem” demonstra a opinião da autora.

IV. O choro eventual dos visitantes é prova de como o lugar impressiona.

Estão corretas apenas as alternativas:

- a) Somente as afirmativas I e II são corretas.
- b) Somente as afirmativas II e IV são corretas.
- c) Somente as afirmativas III e IV são corretas.
- d) Somente as afirmativas I, II e III são corretas.
- e) Somente as afirmativas I, III e IV são corretas.

MATEMÁTICA

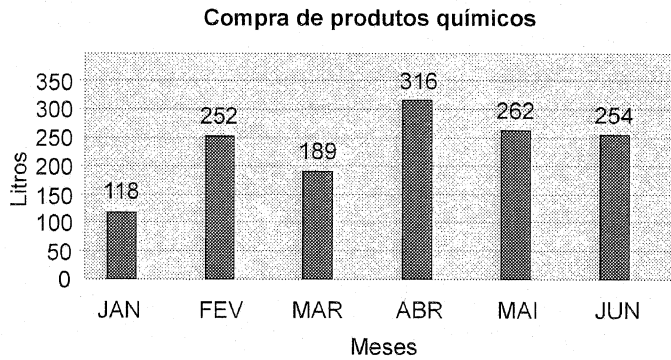
11) Um time de futebol marcou a seguinte quantidade de gols em 10 partidas: 3, 0, 2, 2, 4, 2, 5, 1, 0, 1. Qual foi a média de gols por partida?

- a) 1 gol.
- b) 2 gols.
- c) 5 gols.
- d) 10 gols.
- e) 20 gols.

12) A fração $\frac{1}{5}$ corresponde ao número decimal:

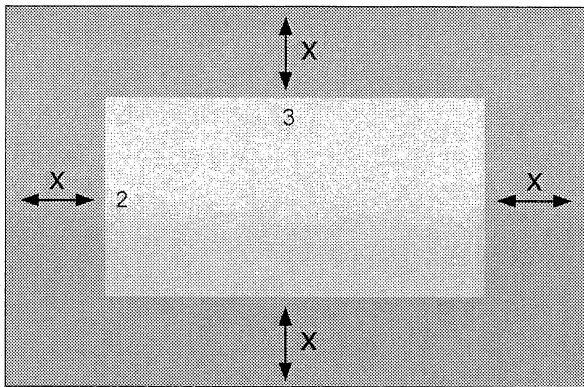
- a) 0,2
- b) 0,5
- c) 1,2
- d) 1,5
- e) 2,5

13) O gráfico a seguir mostra a compra de produtos químicos de uma empresa no primeiro semestre de 2007.



A diferença entre a quantidade de litros comprados nos meses de maior e de menor compra foi:

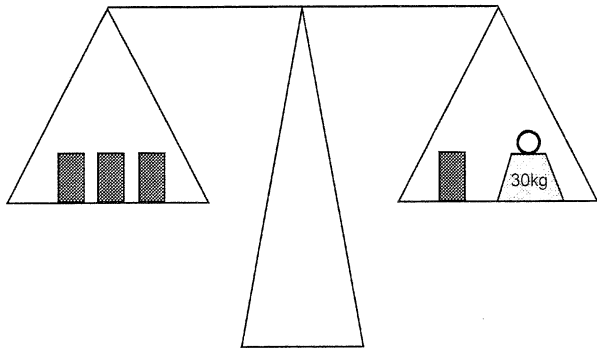
- a) 54 litros.
 - b) 64 litros.
 - c) 127 litros.
 - d) 134 litros.
 - e) 198 litros.
- 14) Em uma sala retangular de 12 m^2 serão colocados dois tipos de piso de cores diferentes. O mais escuro, forma uma moldura na sala, sendo que a parte de cor clara mede $2 \text{ m} \times 3 \text{ m}$.



Se a largura desta moldura (x) é a mesma em todos os lados da sala, como ilustra a figura, seu valor é

- a) 0,05 m.
- b) 0,08 m.
- c) 0,5 m.
- d) 0,75 m.
- e) 0,8 m.

15) Cada pacote que está na balança tem o mesmo peso. Quanto pesa cada um deles?



- a) 10 kg.
 - b) 15 kg.
 - c) 30 kg.
 - d) 40 kg.
 - e) 45 kg.
- 16) Em 8 horas, 20 caminhões descarregam 800 m^3 de areia. Em 5 horas, quantos caminhões serão necessários para descarregar 350 m^3 de areia?
- a) 8 caminhões.
 - b) 13 caminhões.
 - c) 14 caminhões.
 - d) 18 caminhões.
 - e) 20 caminhões.
- 17) Para igualar o peso de dois sacos de areia, um vendedor teve de passar 2,7 kg de um deles para outro. Isto porque o saco mais pesado tinha
- a) 1,2 kg a mais do que outro.
 - b) 1,35 kg a mais do que o outro.
 - c) 2,4 kg a mais do que o outro.
 - d) 2,7 kg a mais do que outro.
 - e) 5,4 kg a mais do que outro.

LEGISLAÇÃO DO SERVIDOR

- 18) Maria, servidora municipal legalmente investida em cargo público, após quatro anos de exercício efetivo veio a engravidar. Como não haveria prejuízo de sua remuneração e mediante prescrição médica, Maria iniciou sua licença em meados do oitavo mês de gravidez. Sobre o procedimento acima e com base na legislação do servidor municipal de Londrina, é correto afirmar:
- a) O procedimento está correto, já que a licença à servidora gestante será de 180 dias consecutivos e poderá ter início no primeiro dia do nono mês de gestação, salvo antecipação por prescrição médica.
 - b) O procedimento está correto, já que a licença à servidora gestante será de 120 dias consecutivos e poderá ter início no primeiro dia do nono mês de gestação, salvo antecipação por prescrição médica.
 - c) O procedimento está incorreto, já que a licença à servidora gestante será de 180 dias consecutivos e poderá ter início somente no primeiro dia do nono mês de gestação, independentemente de prescrição médica.
 - d) O procedimento está correto, já que a licença à servidora gestante será de 120 dias consecutivos e poderá ter início a partir do primeiro dia do oitavo mês de gestação, independentemente de prescrição médica.
 - e) O procedimento está incorreto, já que a licença à servidora gestante será de 120 dias e poderá ter início somente no primeiro dia útil do nono mês de gravidez, independente de prescrição médica.

19) De acordo com a Lei Municipal nº 4.928 de 17/01/1992, o servidor deverá apresentar ao órgão pessoal os elementos necessários para abertura de seu cadastro de assentamentos funcional e financeiro

- a) após entrar em exercício.
- b) após a nomeação e antes de tomar posse.
- c) após a investidura em cargo público e antes da nomeação.
- d) após entrar em exercício e antes de tomar posse.
- e) após tomar posse e antes de entrar em exercício.

20) O Servidor público estável perderá o cargo

I. em virtude de sentença judicial transitada em julgado.

II. mediante processo administrativo em que lhe seja assegurada ampla defesa.

III. mediante procedimento de avaliação periódica de desempenho, assegurada a ampla defesa.

IV. mediante procedimento administrativo periódico, independentemente da ampla defesa.

Assinale a alternativa correta.

- a) Somente as afirmativas I e III são corretas.
- b) Somente as afirmativas III e IV são corretas.
- c) Somente as afirmativas I, II e III são corretas.
- d) Somente as afirmativas I, II e IV são corretas.
- e) Somente as afirmativas II, III e IV são corretas.

21) Ao servidor ocupante de cargo provimento efetivo aplica-se a seguinte disposição, quando investido em mandato eletivo:

- a) Investido em mandato de vereador, será afastado do cargo, sendo-lhe facultado optar pela remuneração mais vantajosa.
- b) Em qualquer caso que exija o afastamento para o exercício de mandato eletivo, seu tempo de serviço será contado para todos os efeitos legais, inclusive para promoção por merecimento.
- c) Investido no mandato de Prefeito, será afastado do cargo, sendo-lhe facultado optar pela remuneração mais vantajosa.
- d) Tratando-se de mandato eletivo federal ou estadual, ficará afastado de seu cargo, sem prejuízo da remuneração do cargo efetivo municipal.
- e) Aos ocupantes de cargo de provimento efetivo, quando investidos em mandato eletivo, não será facultada opção por remuneração mais vantajosa.

22) De acordo com a Lei nº. 4.928, de 17/01/1992 e suas alterações, a vacância do cargo público decorrerá de

- a) reintegração.
- b) reversão.
- c) recondução.
- d) readaptação.
- e) revisão.

CONHECIMENTOS GERAIS/ATUALIDADES

23) Observe o depoimento, que segue, de uma professora do ensino fundamental brasileiro.

Eu acho que está faltando, para o meu aluno, é o apoio da família, porque o aluno tem vindo para a escola sem a participação, ele é jogado aqui dentro. Então, fica difícil para trabalhar a parte da aprendizagem, porque eu tenho que trabalhar a parte formativa dessa criança. [...] A família joga na escola e delega para a escola tudo. Você vai alimentar, educar, orientar. Eu não acho que é minha função, até porque eu penso uma coisa e a família, outra. [...] Eles (os alunos) têm um conhecimento sim; hábitos, não! Eles têm muito pouco, eles não sabem sentar, eles ficam acocorados, eles não sabem manipular o caderno, eles não sabem virar a folha, o caderno fica de cabeça para baixo.

(PAIXÃO, L. P.; ZAGO, N. *Sociologia da Educação Pesquisa e Realidade Brasileira*. Petrópolis: Vozes. 2007. p. 224).

De acordo com o depoimento, é correto afirmar que:


- a) A professora concorda com a idéia de que a escola deve priorizar a tarefa de socialização das crianças.
- b) A família vem atendendo à demanda por participação e envolvimento na escola.
- c) Para a professora, a função primordial da escola seria a de iniciar o aluno no processo de ensino-aprendizagem de conhecimentos.
- d) Os alunos ingressariam na escola dotados de comportamentos considerados adequados para a realização das atividades próprias do processo de ensino- aprendizagem.
- e) Segundo a professora, a família estaria, acertadamente, delegando à escola a responsabilidade pela formação moral e ética dos alunos.

24) Nas últimas décadas registraram-se diversas situações de crise econômica, tendo como epicentro países diversos (México, Coréia, Rússia). Essas crises afetaram, negativamente, ao mesmo tempo, países que se julgavam protegidos de seus efeitos perversos. A crise mais recente, que vem afetando as bolsas de valores de todo o mundo e seus mercados, com riscos para o Brasil, tem por origem os Estados Unidos.

Com base nas informações e nos conhecimentos sobre o tema, assinale a alternativa correta.

- a) O estopim da atual crise norte-americana está na perda de credibilidade dos mecanismos de financiamento do setor imobiliário daquele país.
- b) O excesso de intervencionismo do Estado na economia norte-americana está na origem da atual crise econômica norte-americana.
- c) A guerra contra o Iraque determinou a eclosão da crise, pois os Estados Unidos tiveram de endividar-se com a União Européia.
- d) A atual crise norte-americana evidencia, para os outros países, a importância de adotarem os princípios da “economia cassino”.
- e) O crescimento desmedido, nos EUA, dos jogos ilegais, como os bingos, atuou como fator determinante para a atual crise norte-americana.

25) Observe a charge. Ela faz referência ao atual movimento de luta dos monges no Tibet, que reivindicam a independência daquela região.



(Folha de Londrina. Terça-feira, 25 mar. 2008. Opinião 2).

Com base na imagem e nos conhecimentos sobre o tema, assinale a alternativa que contemple o país que está no centro da atual luta travada pelo povo tibetano:

- a) Índia, pois a tradição religiosa dos monges tem dificultado a exploração de urânio, existente no subsolo daquela região.
- b) Japão, que se recusa a cumprir tratado de liberdade ao povo Tibetano, conforme estabelecido em acordo assinado no final da Segunda Guerra Mundial.
- c) Coréia, que tenta impedir o Tibet de se tornar o quinto “tigre asiático”, projetando-se, assim, no cenário econômico mundial.
- d) Vietnã do Norte, de tradição comunista, que busca incorporar o Tibet com a finalidade de se manter enquanto potência regional na Ásia.
- e) A China, que invadiu o Tibet, em 1951, através das forças comunistas de Mao-Tse Tung.

26) Após o 11 de setembro de 2001, cresceu a presença militar dos Estados Unidos em diversos países, constituindo exemplos nesse sentido a invasão do Afeganistão, sob o pretexto de lutar contra os Talibãs, e a invasão do Iraque, justificada pelo governo norte-americano como necessária em razão da ditadura imposta por Saddam Roussain. Entretanto a intervenção militar dos Estados Unidos sobre outros países marcou a história norte-americana ao longo do século XX.

Com base no enunciado e nos conhecimentos sobre o tema, assinale a alternativa correta.

- a) A invasão do Afeganistão e do Iraque, pelos soldados norte-americanos, tem por motivação as questões religiosas, daí ser chamada de uma luta do “bem” contra o “mal” pelo presidente George Bush.
 - b) Ainda que sangrentas, as invasões norte-americanas foram fundamentais para garantir o respeito ao princípio de auto-determinação dos povos.
 - c) No atual quadro geopolítico mundial, as recentes invasões norte-americanas no Oriente Médio marcaram o início da “guerra fria”, com o enfrentamento entre tropas comunistas e capitalistas.
 - d) A guerra dos EUA contra o Iraque foi fundamental, uma vez que restabeleceu, naquele país, o respeito aos princípios de respeito contidos na carta internacional dos direitos humanos.
 - e) A guerra do Vietnã, a invasão da Baía dos Porcos e a intervenção no Iraque, sob o comando dos EUA, são práticas consideradas imperialistas.
- 27) Observe a charge seguinte, que trata do caso do menino cubano Elián Gonzáles, envolvido, entre 1999 e 2000, em uma disputa diplomática entre os EUA e Cuba, depois de ser resgatado de um naufrágio de “balseiros” na costa sul norte-americana.



(Ciência Hoje. Rio de Janeiro. v. 39, nov. 2006, p. 65.)

Em relação à charge, é correto afirmar que se refere

- a) à renovação do embargo econômico contra Cuba, acentuando as limitações de trocas comerciais entre os dois países.
 - b) à crença na força de sedução do modelo americano de uma sociedade baseada em altos níveis de consumo de mercadorias.
 - c) à recente medida tomada pelos EUA de restringir a remessa legal de dólares de cubanos residentes nos EUA para seus familiares cubanos e permitir apenas a remessa de bens de consumo supérfluos.
 - d) ao levantamento de barreiras militares no sul dos EUA para impedir uma tentativa cubana de resgate de Elián Gonzáles.
 - e) à tentativa do governo norte-americano que, junto com empresários da área de brinquedos, propõem o relaxamento das sanções econômicas e a abertura de um novo espaço comercial entre os dois países.
- 28) Atente para a seguinte manchete, publicada em 2005, em jornal de circulação nacional.

“Governador de SC louva eugenia em artigo”.

Analise as afirmativas a seguir.

- I. Ninguém é superior a ninguém! O convívio entre os cidadãos prevê o respeito e aceitação das diferenças biológicas e das culturais.
- II. Tem-se que buscar o aperfeiçoamento da espécie humana por meio de casamentos entre os bem dotados biologicamente e o desenvolvimento de programas educacionais para a reprodução consciente de casais saudáveis.

III. Todas as pessoas, independentemente de sua condição étnico-racial, econômica, social, de gênero ou criminal são sujeitas e detentoras dos direitos humanos.

IV. Devemos utilizar as descobertas a respeito do genoma para que as pessoas possam evitar que seus filhos nasçam feios, deformados, deficientes ou idiotas.

É correto afirmar que são identificadas com uma apropriação política da doutrina eugenista:

- a) Somente as afirmativas I e II.
- b) Somente as afirmativas II e IV.
- c) Somente as afirmativas III e IV.
- d) Somente as afirmativas I, II e III.
- e) Somente as afirmativas I, III e IV.

29) Atente para o desabafo do conceituado jornalista Jânio de Freitas:

Pela primeira vez desde 1988, e graças à explosiva elevação do atrito entre oposicionistas e governistas, na noite de anteontem para ontem no Senado, surge uma perspectiva real de acabar-se, em futuro próximo, com a imoralidade antidemocrática que é a enxurrada de medidas provisórias como método de governo.

(Folha de São Paulo. Compromisso menos provisório. Disponível em: <<http://Folha.uol.com.br/fsp/brasil/fc1303200804.htm>> - acessado em 23 mar. 2008).

É correto afirmar que, o uso excessivo de Medidas Provisórias (MPs) é criticado porque:

- a) Leva a um desequilíbrio entre os poderes da República em favor do Poder Executivo, que passa a suplantar o Poder Legislativo em sua função de legislar.
- b) É uma instrução da Constituição de 1988 que impede o Poder Executivo de editar leis, reafirmando, neste caso, a prerrogativa do Poder Legislativo.
- c) Limita o número de assuntos a respeito dos quais a Presidência da República pode legislar, entre eles estão questões referentes à nacionalidade, processo penal e direitos políticos.
- d) Como procedimento de edição de leis, agiliza as atividades normais e regulares do Congresso, já que, para vigorar, cada MP depende da análise prévia dos parlamentares.
- e) É um método na feitura das leis que prioriza os pareceres das Comissões das Casas do Congresso em detrimento do debate público dos temas sob legislação.

30) Leia as seguintes notícias.

As autoridades do estado do Rio de Janeiro admitiram, após terem insistentemente negado, a existência de uma epidemia de dengue, que, segundo números divulgados hoje [21/03/08], avança ao ritmo de um caso reportado por minuto.

(Disponível em: <<http://noticias.uol.com.br/ultnot>> - acessado em 21 mar. 2008).

Mortes por febre amarela já superam 2007. Número de casos subiu para dez, com quatro registros novos, incluindo duas mortes confirmadas ontem [16/01/08] pelo Ministério da Saúde.

(Disponível em: <<http://www1.folha.uol.com.br/fsp/cotidian/ff1701200816.htm>> - acessado em 21 mar. 2008).

Analise as afirmativas a seguir.

- I. Graças à universalização e à eficiência do sistema de saneamento básico do país, a saúde dos brasileiros, na última década, não registra casos daquelas doenças diretamente ligadas à má qualidade da água e à falta de esgoto.**
- II. Pelo fato de o Estado não dispor de uma política de distribuição gratuita de remédios e, no caso de retrovirais, só autorizar o uso de remédios não-genéricos, o atendimento aos portadores do HIV, no Brasil, é considerado de péssima qualidade dentro do quadro das experiências mundiais.**
- III. Em razão, principalmente, dos avanços da medicina, sobretudo os antibióticos, da ampliação da rede de saneamento básico e da conscientização a respeito de hábitos de higiene, reduziu-se a participação percentual de doenças infecto-parasitárias na grade de doenças que atingem os brasileiros.**
- IV. O envelhecimento da população, a adoção de hábitos alimentares ricos em gorduras e o sedentarismo vêm elevando progressivamente, no Brasil, a presença das doenças cardiovasculares.**

Com relação ao quadro das doenças no Brasil atual, assinale a alternativa correta.

- a) Somente as afirmativas I e II são corretas.
- b) Somente as afirmativas II e IV são corretas.
- c) Somente as afirmativas III e IV são corretas.
- d) Somente as afirmativas I, II e III são corretas.
- e) Somente as afirmativas I, III e IV são corretas.

TÉCNICO DE GESTÃO PÚBLICA NA FUNÇÃO DE ASSISTÊNCIA DE GESTÃO

31) O gráfico que representa a estrutura organizacional de uma empresa é denominado:

- a) Fluxograma.
- b) Organograma.
- c) Pictograma.
- d) Estruturograma.
- e) Histograma.

32) O termo economia de escala é utilizado para denominar o fenômeno observado quando um aumento da produção reduz o custo unitário do produto fabricado. Essa redução do custo unitário pode ser explicada por meio

- a) da diluição dos custos variáveis por unidade produzida.
- b) da redução das despesas equilibradas.
- c) da diluição dos custos fixos por unidade produzida.
- d) do investimento em tecnologia.
- e) da terceirização do processo produtivo.

33) O "5Ss" é um programa gerencial considerado a base para a melhoria da qualidade. Adotado por um grande número de organizações, o programa tem como objetivo a melhoria da produtividade através da transformação do ambiente e da atitude das pessoas. Cada 'S' representa um senso.

Na tabela seguinte estão dispostos cada um dos sentidos e seus significados.

Preencha a segunda coluna de acordo com a primeira.

I. Seiri	()	é o senso de utilização. Manter no ambiente de trabalho apenas o que será utilizado.
II. Seiton	()	é o senso da disciplina. Praticar continuamente todos os princípios dos 5Ss.
III. Seiso	()	é o senso da limpeza. Manter o ambiente de trabalho limpo com higiene.
IV. Seiketsu	()	é o senso da arrumação. Tudo em lugar e identificado corretamente.
V. Shitsuke	()	é o senso da padronização. Manter os objetos identificados, orientados de acordo com as normas estabelecidas.

Assinale a alternativa que apresenta a ordem correta da segunda coluna.

- a) I, III, V, IV, II.
- b) II, V, III, IV, I.
- c) IV, II, V, III, I.
- d) I, V, III, II, IV.
- e) III, II, IV, I, V.

34) Sobre a norma internacional ISO 14.001, é correto afirmar:

- a) A norma tem como objetivo normatizar a gestão da qualidade em uma organização.
- b) Por ser uma norma internacional, ela não pode ser aplicada no Brasil.
- c) A norma só pode ser utilizada por indústrias estrangeiras.
- d) A norma tem como objetivo imediato o incremento do lucro de uma organização.
- e) A norma tem como objetivo normatizar a gestão ambiental de uma organização.

- 35) **Departamentalização** é a divisão ou agrupamento do trabalho dentro da estrutura organizacional de uma empresa. Existem diversos critérios que podem ser adotados para se realizar esta divisão. Uma fábrica de móveis que agrupou as atividades por similaridade do trabalho adotou a departamentalização do tipo
- a) por processo.
 - b) funcional.
 - c) territorial.
 - d) matricial.
 - e) por cliente.
- 36) **O componente do computador responsável pelo armazenamento temporário de dados é:**
- a) A memória RAM.
 - b) A memória ROM.
 - c) O monitor.
 - d) O procesador.
 - e) A placa-mãe.
- 37) **Vírus de computador** são programas desenvolvidos para alterar de forma nociva o funcionamento de um computador. A forma mais comum de contaminação é através da leitura de um arquivo infectado. **Assinale a alternativa que representa uma extensão segura e imune aos vírus:**
- a) A extensão doc.
 - b) A extensão txt.
 - c) A extensão exe.
 - d) A extensão com.
 - e) A extensão wmv.
- 38) **Atalhos** são combinações de teclas que podem ser utilizadas para agilizar operações em um determinado programa. No Microsoft Word 2003, versão em português com a configuração padrão, as operações de gravar e de imprimir um documento podem ser realizadas através dos seguintes atalhos:
- a) Ctrl+S e Ctrl+P.
 - b) Ctrl+S e Ctrl+I.
 - c) Ctrl+B e Ctrl+P.
 - d) Ctrl+G e Ctrl+I.
 - e) Ctrl+G e Ctrl+P.
- 39) **João adquiriu um dispositivo de memória USB Flash Drive (*pendrive*) com uma capacidade de armazenamento de 4 GB (*gigabyte*). Ao utilizar o dispositivo pela primeira vez, a operação de copiar um arquivo de 2.1 GB do disco rígido para o dispositivo fracassou. Sobre o motivo da falha na operação, assinale a alternativa correta.**
- a) A operação falhou porque o dispositivo foi formatado com o sistema de arquivos FAT32.
 - b) A operação falhou porque o dispositivo foi formatado com o sistema de arquivos NTFS.
 - c) A operação falhou porque o dispositivo foi formatado com o sistema de arquivos EXT3.
 - d) A operação falhou porque o dispositivo foi formatado com o sistema de arquivos MX2B.
 - e) A operação falhou porque o dispositivo foi formatado com o sistema de arquivos FAT16.
- 40) **Algumas das disfunções identificadas no modelo burocrático são:**
- a) Excesso de formalismo; dificuldade em assimilar novas tecnologias.
 - b) Padronização dos procedimentos; rigor na meritocracia.
 - c) Rapidez nas decisões; flexibilidade do comportamento.
 - d) Racionalidade nas decisões; normas de conduta.
 - e) Documentação dos atos administrativos; definição de competência e atribuições.

