



Prefeitura do Município de Londrina

Estado do Paraná

TESTE SELETIVO SIMPLIFICADO

EDITAL N^o. 103/2012-DGP/SMGP

Educador de Participação Cidadã

PROVA OBJETIVA

Aplicação: 24/06/2012 (MANHÃ)

INSTRUÇÕES AO CANDIDATO

1. Assim que receber o gabarito (com cuidado para não rasga-lo) confira seus dados impressos e assinhe no local apropriado. Havendo dúvidas, solicite orientação ao fiscal de sala.
2. Responda todas as questões primeiramente no caderno de provas (existe apenas uma alternativa correta) e, depois, com calma, transcreva ao gabarito. **Não haverá substituição de gabarito** e as questões em branco, com rasuras, não preenchidas corretamente ou com mais de uma alternativa assinalada serão consideradas nulas.
3. Ao terminar de responder as questões do gabarito, permaneça sentado, chame o fiscal de sala e aguarde.
4. O tempo mínimo de permanência em sala será de 60 (sessenta) minutos e a duração da prova não excederá a 03 (três) horas.
5. Terminada a prova, não será permitida a permanência nos corredores e pátios, nem acesso a outras salas ou banheiros.
6. Não será permitida a saída de candidato com o caderno de prova.
7. O Gabarito Oficial Preliminar e a Prova Objetiva serão disponibilizados no endereço eletrônico www.londrina.pr.gov.br no dia 25/06/2012 a partir das 17h00.
8. Utilize o canhoto abaixo para anotar a alternativa que julgar correta em cada questão, mesmo modo que no gabarito oficial. Ao término da prova destaque o canhoto e leve-o contigo. Isto é importante para sua conferência pessoal.

nome do candidato:


inscrição:



01. 02. 03. 04. 05. 06. 07. 08. 09. 10.

11. 12. 13. 14. 15. 16. 17. 18. 19. 20.

21. 22. 23. 24. 25.



LÍNGUA PORTUGUESA

As questões 1 e 2 são a respeito da figura abaixo



1. De acordo com a imagem acima, é possível entender:

- I - Os sentimentos entre o casal é contraditório.
- II - início de fases antagônicas para ambos.
- III - Os noivos estão consoantes.
- IV - O texto torna-se cômico somente pela presença da escrita.

- a) I, II e IV estão corretas.
- b) Somente I e II estão incorretas.
- c) Todas as alternativas estão incorretas.
- d) Somente I e IV estão corretas.
- e) Somente IV é incorreta.

2. Para que o leitor do texto acima entenda o significado da linguagem escrita utilizada no texto não é necessário:

- a) Participar de um universo permeado pelo universo dos jogos eletrônicos.
- b) Perpetuar a linguagem culta e clássica como meio de comunicação.
- c) Ter um nível de educação que tenha contemplado o ensino de uma língua estrangeira.
- d) Entender o significado da expressão para conceber o sentido global do texto.
- e) Todas as opções anteriores estão corretas.

3. Em se tratando de Metáfora, pode-se afirmar que:

- I - O entendimento do texto envolve elementos extrínsecos ao escrito.

II - a inadequação da palavra dentro do contexto torna-o metafórico.

III - aumenta-se ou diminui-se o sentido que uma palavra possui em um contexto.

- a) Somente I e III estão incorretas
- b) Todas estão corretas.
- c) Somente I e II estão corretas.
- d) Somente I está incorreta
- e) Somente II está correta.

4. Segundo o Vocabulário Ortográfico da Língua Portuguesa (5ª edição), quanto ao emprego do hífen, está incorreta a opção:

- a) Anti-inflamatório, circum-hospitalar, tique-taque.
- b) Lenga-lenga, porco-da-índia, co-habitar.
- c) Adeno-hipófise, zoo-hematina, bem-te-vi.
- d) Mega-hertz, bi-hebdomadário, auto-observação.
- e) micro-ondas, blá-blá-blá, sub-base.

5. Ainda com base no Vocabulário Ortográfico da Língua Portuguesa:

I - As vogais consecutivas que não pertencem a ditongos decrescentes (...) podem, se a primeira delas não é u precedido de g ou q, e mesmo que sejam iguais, separar-se na escrita

II - Restabelecer o acento gráfico nos paroxítonos com os ditongos éi e ói quando incluídos na regra geral dos terminados em -r

III - As palavras paroxítonas que apresentam, na sílaba tônica/tônica, as vogais abertas grafadas a, e, o e ainda i ou u e que terminam em -l, -n, -r, -x e -ps, assim como, salvo raras exceções, as respectivas formas do plural, algumas das quais passam a proparoxítonas

- a) Todas as alternativas estão corretas.
- b) Somente I e III estão incorretas.
- c) Somente I está correta.
- d) Somente II está incorreta.
- e) Todas as alternativas estão incorretas.

As questões 6 e 7 são relativas ao texto abaixo:

Circuito Fechado

Ricardo Ramos

Chinelos, vaso, descarga. Pia, sabonete. Água. Escova, creme dental, água, espuma, creme de barbear, pincel, espuma, gilete, água, cortina, sabonete, água fria, água quente, toalha. Creme para cabelo, pente. Cueca, camisa, abotoaduras, calça, meias, sapatos, telefone, agenda, copo com lápis, caneta, blocos de notas, espátula, pastas, caixa de entrada, de saída, vaso com plantas, quadros, papéis, cigarro, fósforo. Bandeja, xícara pequena. Cigarro e fósforo. Papéis, telefone, relatórios, cartas,



PREFEITURA DO MUNICÍPIO DE LONDRINA
Estado do Paraná

Prova Educador de Participação Cidadã – 24/06/2012

notas, vales, cheques, memorandos, bilhetes, telefone, papéis. Relógio. Mesa, cavalete, cinzeiros, cadeiras, esboços de anúncios, fotos, cigarro, fósforo, bloco de papel, caneta, projetos de filmes, xícara, cartaz, lápis, cigarro, fósforo, quadro-negro, giz, papel. Mictório, pia, água. Táxi. Mesa, toalha, cadeiras, copos, pratos, talheres, garrafa, guardanapo, xícara. Maço de cigarros, caixa de fósforos. Escova de dentes, pasta, água. Mesa e poltrona, papéis, telefone, revista, copo de papel, cigarro, fósforo, telefone interno, gravata, paletó. Carteira, níqueis, documentos, caneta, chaves, lenço, relógio, maço de cigarros, caixa de fósforos. Jornal. Mesa, cadeiras, xícara e pires, prato, bule, talheres, guardanapos. Quadros. Pasta, carro. Cigarro, fósforo. Mesa e poltrona, cadeira, cinzeiro, papéis, externo, papéis, prova de anúncio, caneta e papel, relógio, papel, pasta, cigarro, fósforo, papel e caneta, telefone, caneta e papel, telefone, papéis, folheto, xícara, jornal, cigarro, fósforo, papel e caneta. Carro. Maço de cigarros, caixa de fósforos. Paletó, gravata. Poltrona, copo, revista. Quadros. Mesa, cadeiras, pratos, talheres, copos, guardanapos. Xícaras, cigarro e fósforo. Poltrona, livro. Cigarro e fósforo. Televisor, poltrona. Cigarro e fósforo. Abotoaduras, camisa, sapatos, meias, calça, cueca, pijama, espuma, água. Chinelos. Coberta, cama, traveseiro.

6. Este texto pode ser classificado como texto:

- a) Imagético - associa imagem e escrita.
- b) Instrucional - padroniza um processo.
- c) Narrativo - descreve uma sequência.
- d) Não Verbal - excede a escrita.
- e) Dissertativo - discute uma linha de raciocínio.

7. Sobre Coesão e Coerência, podemos afirmar que a pessoa:

- I - Trabalha em situação estressora e insalubre;
- II - Alterna períodos de descanso e trabalho;
- III - Possui uma rotina cíclica e repetitiva;
- IV - É do sexo masculino pelos termos.

- a) Somente IV é correta.
- b) Somente I e II estão incorretas.
- c) Somente II está incorreta.
- d) Todas as alternativas estão incorretas.
- e) Todas as alternativas estão corretas.

MATEMÁTICA

8. O conjunto A tem 20 elementos, $A \cap B$ tem 12 elementos e $A \cup B$ tem 60 elementos. O número de elementos do conjunto B é:

- a) 28
- b) 36
- c) 40
- d) 48
- e) 52

9. Um nadador, disputando a prova dos 400 metros, nado livre, completou os primeiros 300 metros em 3 minutos e 51 segundos. Se esse nadador mantiver a mesma velocidade média nos últimos 100 metros, completará a prova em:

- a) 4 minutos e 51 segundos
- b) 5 minutos e 8 segundos
- c) 5 minutos e 28 segundos
- d) 5 minutos e 49 segundos
- e) 6 minutos e 3 segundos

10. Lançando-se um dado, qual a probabilidade de sair um número ímpar na face voltada para cima?

- a) 50%
- b) 40%
- c) 30%
- d) 20%
- e) 10%

11. O apótema de uma pirâmide regular quadrangular mede 13 cm e o apótema de sua base mede 5 cm. Qual o volume da pirâmide?

- a) 120 cm^3
- b) 169 cm^3
- c) 400 cm^3
- d) 325 cm^3
- e) 100 cm^3

12. No dia 1º de junho, Cristiano abriu uma caderneta de poupança no valor de R\$ 200,00. Nesse mês, a taxa de rendimento da poupança foi de 1,2% e, em julho, foi de 1,4%. Qual o saldo de Cristiano em 1º de agosto?

- a) R\$ 202,40
- b) R\$ 202,50
- c) R\$ 205,20
- d) R\$ 205,23
- e) R\$ 208,20



PREFEITURA DO MUNICÍPIO DE LONDRINA
Estado do Paraná

Prova Educador de Participação Cidadã – 24/06/2012

13. Para comemorar a passagem do Ano Novo, um clube da cidade ofereceu, a seus associados um baile de *réveillon* com ceia. Aos sócios foram cobrados ingressos de R\$ 20,00, sendo que os dependentes pagaram apenas a metade. Com os 1200 participantes, o clube arrecadou um total de R\$ 18000,00 qual o número de dependentes presentes no *réveillon*?

- a) 900
- b) 600
- c) 540
- d) 720
- e) 840

14. Uma serra elétrica foi vendida por R\$ 450,00, com R\$ 50,00 de prejuízo sobre o valor de custo. Qual a taxa percentual de prejuízo sobre o valor da venda?

- a) 10%.
- b) 12,5%.
- c) 1,25%
- d) 10,5%
- e) 11,1%

INFORMÁTICA

15. Qual a tecla de atalho no Word XP que permite salvar um arquivo aberto?

- a) CTRL+A
- b) CTRL+C
- c) CTRL+F
- d) CTRL+B
- e) CTRL+D

16. Quando excluimos um arquivo no Windows XP por engano é possível recuperá-lo quando:


- a) O arquivo está armazenado no computador e foi excluído com a opção das teclas Shift+Delete, desta forma estará na lixeira para ser recuperado.
- b) O arquivo está armazenado na rede e foi excluído com a opção Delete, desta forma estará na lixeira da máquina para ser recuperado.
- c) O arquivo está armazenado no computador e foi excluído com a opção da tecla Delete, desta forma estará na lixeira para ser recuperado.
- d) O arquivo está armazenado na pasta lixeira e foi excluído com a opção Delete, digitando CTRL+Z ele irá retornar automaticamente para a pasta de origem.
- e) O arquivo está armazenado na máquina e foi excluído com a opção Shift+Delete, desta forma é só digitar CTRL+Z e o arquivo retorna automaticamente para a pasta de origem.

17. É preciso digitar um texto sobre o “Dia dos Namorados” mas foi determinado que este texto precisa conter no máximo 80 caracteres para que seja validado pelo sistema de envio de formulário eletrônico da empresa. Quando digitamos um texto em um arquivo no Windows XP é possível verificar quantos caracteres possui o texto, nº de caracteres com e sem espaços, nº de páginas que contém o arquivo, nº de linhas, nº de parágrafos e nº de palavras. Qual das opções abaixo indica onde fica esta opção na barra de menu e qual o nome da função respectivamente quando este arquivo está aberto?

- a) Arquivo / Configurar Página
- b) Formatar / Revelar Formatação
- c) Arquivo / Propriedades.
- d) Exibir / Layout de Impressão
- e) Arquivo / Revelar Formatação

18. A seção do Windows XP destinada ao gerenciamento de arquivos é o “Windows Explorer”. Para adicionar uma subpasta na pasta “Meus Documentos” qual o procedimento correto?

- a) Na barra de menu selecionar a opção “Ferramentas” e depois “Nova Pasta”.



PREFEITURA DO MUNICÍPIO DE LONDRINA
Estado do Paraná

Prova Educador de Participação Cidadã – 24/06/2012

- b) No painel "Pastas", selecionar a pasta "Meus Documentos" com o botão esquerdo do mouse e escolher a opção "exibir".
c) Selecionar a pasta "Meus Documentos" no modo de visualização Webview e selecionar a opção "Nova Pasta".
d) Selecionar a pasta "Meus Documentos" no modo de visualização Webview e selecionar a opção "Exibir".
e) Selecionar a pasta "Meus Documentos" no modo de visualização Webview e selecionar a opção "Exibir" e depois a opção "Criar Nova Pasta".

19. Na tabela abaixo, qual o valor da célula F2, sabendo que a fórmula utilizada é: =MEDIA(B2:E2) ?

	A	B	C	D	E	F
1	Vendedor	Janeiro	Fevereiro	Março	Abri	Média Venda
2	Leandro Martins	50.000	58.000	30.000	70.000	
3	Marlon Medeiros	55.000	38.000	43.000	50.000	
4	Marcia Borges	83.000	28.000	39.000	42.000	
5	Celia Pedráo	25.000	32.000	75.000	65.000	
6						

- a) 208.000
b) 50.000
c) 55.000
d) 52.000
e) 227.000

CONHECIMENTO ESPECÍFICO

20. Assinale a alternativa incorreta

"O País avançou decisivamente na proteção e promoção do direito às diferenças. Porém, o peso negativo do passado continua a projetar no presente uma situação de profunda iniquidade social. O acesso aos direitos fundamentais continua enfrentando barreiras estruturais, resquícios de um processo histórico, até secular, marcado:" (PNDH-3):

- a) Pelo genocídio indígena.
b) Pela escravidão.
c) Por períodos ditatoriais.
d) Pelo movimento estudantil.
e) Pela discriminação de gênero.

21. De acordo com a Lei 8.069/90 – Estatuto da Criança e do Adolescente, em seu Art. 4º é assegurado à criança e ao adolescente a "efetivação dos direitos referentes à vida, à saúde, à alimentação, à educação, ao esporte, ao

lazer, à profissionalização, à cultura, à dignidade, ao respeito, à liberdade e à convivência familiar e comunitária", tendo sua prioridade compreendida nos casos de:


- a) Primazia de receber proteção e socorro em quaisquer circunstâncias;
b) Precedência de atendimento nos serviços públicos ou de relevância pública;
c) Preferência na formulação e na execução das políticas sociais públicas;
d) Destinação privilegiada de recursos públicos nas áreas relacionadas com a proteção à infância e à juventude.
e) Todas as alternativas anteriores.

22. Em seu Art. 54, o Estatuto da Criança e do Adolescente assegura aos mesmos:

- I - Ensino fundamental, obrigatório e gratuito, inclusive para os que a ele não tiveram acesso na idade própria;
II - Progressiva extensão da obrigatoriedade e gratuidade ao ensino médio e superior;
III - Atendimento educacional especializado aos portadores de deficiência, preferencialmente na rede regular de ensino;
IV - Atendimento em creche e pré-escola às crianças de zero a seis anos de idade;
V - Acesso aos níveis mais elevados do ensino, da pesquisa e da criação artística, segundo a capacidade de cada um;
VI - Oferta de ensino noturno regular, adequado às condições da Federação ou incluída na mesma região metropolitana;
VII - Atendimento no ensino fundamental, através de programas suplementares de material didático-escolar, transporte, alimentação e assistência à saúde.

É correto afirmar que:

- a) Somente I, II e III estão corretas
b) Todas as alternativas estão corretas
c) Somente II e VI estão incorretas
d) Somente II, III, IV e VI estão corretas
e) Somente I, II e VII estão incorretas



PREFEITURA DO MUNICÍPIO DE LONDRINA
Estado do Paraná

Prova Educador de Participação Cidadã – 24/06/2012

23. A Lei nº 12.527/2011 regulamenta aos cidadãos o direito constitucional de acesso às informações públicas aos três Poderes da União, Estados, Distrito Federal e Municípios. O acesso da sociedade às informações públicas permite a melhoria da gestão pública, tornando possível uma maior participação popular e o controle social das ações governamentais, através do Serviço de Informações ao Cidadão. Tal possibilidade de acesso encontra-se disponível também na versão on line, através do uso on line do

- a) e-SIC
- b) e-mail
- c) e-governo
- d) PROINFO
- e) SIC

24. "Se, por um instante, deixarmos de lado a noção abrangente da cultura como ordem simbólica e a tomarmos sob o prisma da criação e expressão das obras de pensamento e das obras de arte, diremos que a cultura possui três traços principais que a tornam distante do entretenimento: em primeiro lugar, é trabalho, ou seja, movimento de criação do sentido, quando a obra de arte e de pensamento capturam a experiência do mundo dado para interpretá-la, criticá-la, transcendê-la e transformá-la – é a experimentação do novo; em segundo, é a ação para dar a pensar, dar a ver, dar a refletir, a imaginar e a sentir o que se esconde sob as experiências vividas ou cotidianas, transformando-as em obras que as modificam por que se tornam conhecidas (nas obras de pensamento), densas, novas e profundas (nas obras de arte); em terceiro, numa sociedade de classes, de exploração, dominação e exclusão social, a cultura é um direito do cidadão, direito de acesso aos bens e obras culturais, direito de fazer cultura e de participar das decisões sobre a política cultural" (Chauí, 2008). Tendo em vista este terceiro traço sobre cultura e considerando a juventude atual, podemos reconhecer como traços culturais da atualidade:

- I - Hip Hop
- II - Grafite
- III - Mangá / Anime
- IV - Fliperama

- a) Todas alternativas estão corretas.
- b) Somente IV está incorreta.
- c) I, II e IV estão corretas.
- d) Somente II e IV estão incorretas.
- e) Todas as alternativas estão incorretas.

25. Em Londrina, hoje, um dos órgãos de amparo e auxílio que o jovem hoje dispõe é o Conselho Municipal de Políticas para a Juventude de Londrina, adequando-o em conformidade com o Estatuto da Juventude, do governo federal. Este conselho utiliza a seguinte sigla:

- a) CONJUVE
- b) CNJ
- c) CONJUV
- d) COJULON
- e) COMJUVE

